

Fabio, Lisa, Susi, Tom und Mops

Zur Buchseite 1

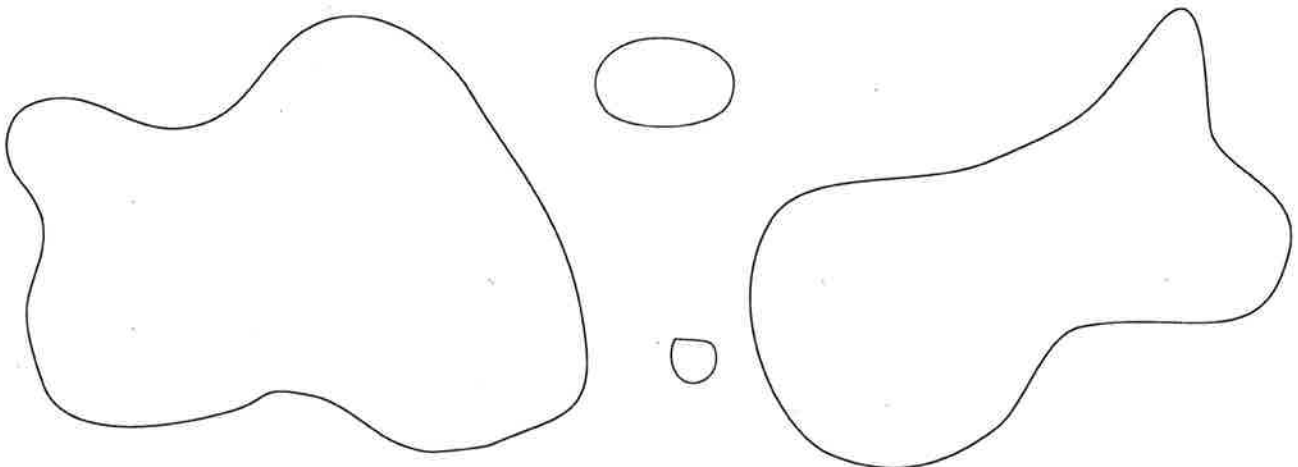
Früher warst du klein. Zeichne dich.

Jetzt bist du grösser. Zeichne dich.

Was nimmt viel Raum ein? Zeichne es.

Zeichne etwas, das wenig Raum einnimmt.

1 Male diese Figuren aus und rede darüber.



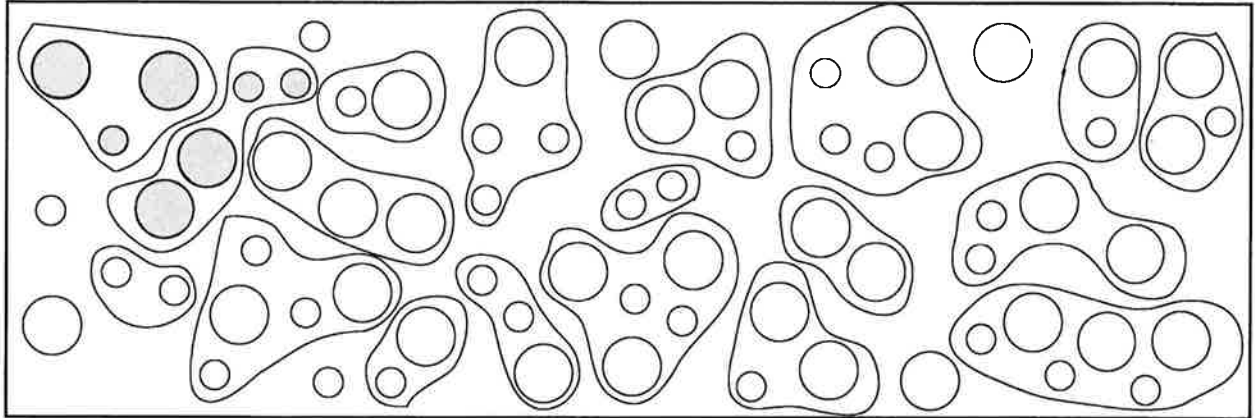
2 a) Zeige, wie du viel Raum einnimmst.
b) Zeige, wie du wenig Raum einnimmst.

3 Geh mit geschlossenen Augen umher. Was erlebst du?

Spielwürfel


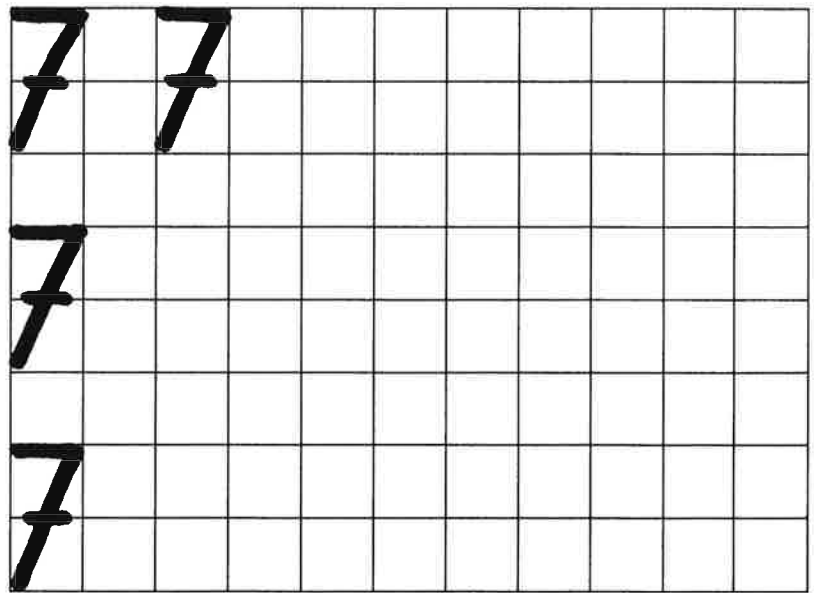
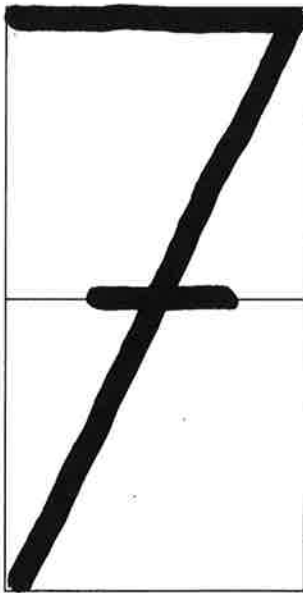
Zur Buchseite 22

- 1 Färbe jeweils 2 oder 3 Teilmengen mit der gleichen Farbe, so dass Siebnermengen entstehen.



Rest

2




- 3 7 sieben 0 _____ 2 _____
 5 _____ 6 _____ 3 _____
 4 _____ 1 _____ 7 _____

Wer ist grösser?

Zur Buchseite 34

1 Hier bedeutet der Pfeil «... ist schneller als ...». Zeichne alle fehlenden Pfeile.




2 Hier bedeutet der Pfeil

«....

....»

Zeichne die fehlenden Pfeile.



3 Hier bedeutet der Pfeil «... ist kleiner als ...». Zeichne dazu Bilder und fehlende Pfeile.



Üben

Zur Buchseite 38

1 Ergänze, benütze Rondellen oder Farbstreifen.

a) $1 + \square = 10$

$3 + \square = 10$

$5 + \square = 10$

$7 + \square = 10$

b) $0 + \square = 10$

$9 + \square = 10$

$10 + \square = 10$

$2 + \square = 10$

c) $0 + \square = 9$

$2 + \square = 9$

$6 + \square = 9$

$4 + \square = 9$

d) $8 + \square = 9$

$1 + \square = 9$

$9 + \square = 9$

$5 + \square = 9$

e) $1 + \square = 8$

$8 + \square = 8$

$4 + \square = 8$

$6 + \square = 8$

f) $2 + \square = 7$

$4 + \square = 7$

$6 + \square = 7$

$7 + \square = 7$

g) $2 + \square = 6$

$4 + \square = 6$

$3 + \square = 6$

$5 + \square = 6$

h) $1 + \square = 6$

$6 + \square = 6$

$0 + \square = 6$

$3 + \square = 6$

i) $0 + \square = 5$

$4 + \square = 5$

$3 + \square = 5$

$5 + \square = 5$

2 Schreibe die Zahlwörter.

0

1

2

3

4

5

6

7

8

9

10

0